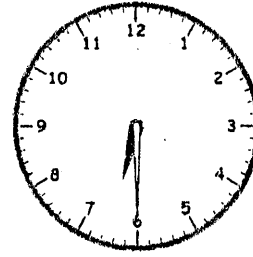
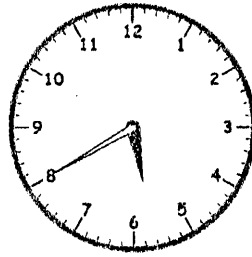
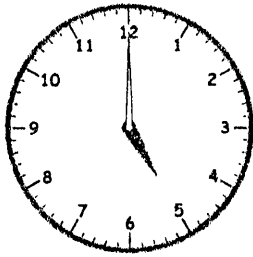


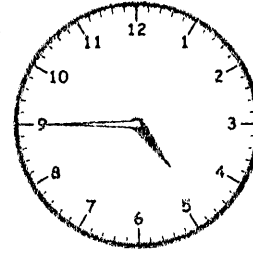
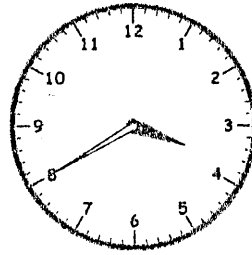
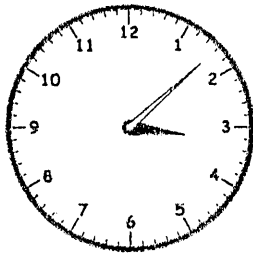
ねん くみ なまえ ()

とけい

1 つぎの 時こくは なん時 なん分 でしょう。



() 時 () 分 () 時 () 分 () 時 () 分

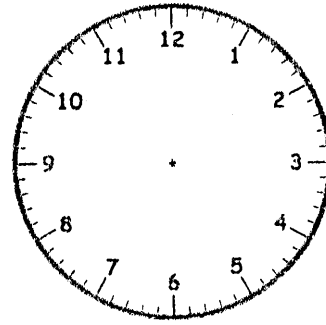
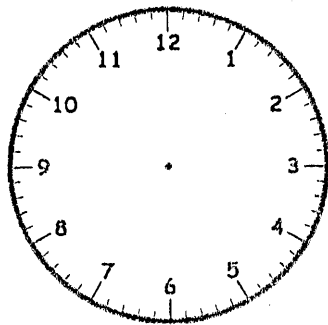


() 時 () 分 () 時 () 分 () 時 () 分

2 はりを かきいれましょう。

(1) 4時

(2) 6時はん



1. 5時00分 5時40分 6時30分
 3時8分(08分) 3時40分 4時45分